

§ 2 Dérivées partielles

Définition de la dérivée partielle

La *dérivée partielle de la fonction f par rapport à x en (x, y)* est la dérivée de la fonction d'une seule variable réelle

$$x \mapsto f(x, y) \quad \text{où} \quad y \text{ est constant}$$

Elle est notée

$$\frac{\partial f(x, y)}{\partial x} \quad \text{ou} \quad \frac{\partial f}{\partial x}(x, y) \quad \text{ou} \quad \frac{\partial}{\partial x} f(x, y) \quad \text{ou} \quad \partial_x f(x, y)$$

En d'autres termes

$$\frac{\partial f(x, y)}{\partial x} = \lim_{\Delta x \rightarrow 0} \frac{f(x + \Delta x, y) - f(x, y)}{\Delta x}$$

Dans le cas où la limite n'existe pas, on dit que *la fonction f n'est pas partiellement dérivable par rapport à x en (x, y)* .

Dans le contexte des fonctions de plusieurs variables, l'adjectif partiel signifie par rapport à une seule variable, les autres arguments étant constants.

D'une manière analogue, *la dérivée partielle de la fonction f par rapport à y en (x, y)* est la dérivée de la fonction d'une seule variable réelle

$$y \mapsto f(x, y) \quad \text{où} \quad x \text{ est constant}$$

Elle est notée

$$\frac{\partial f(x, y)}{\partial y} \quad \text{ou} \quad \frac{\partial f}{\partial y}(x, y) \quad \text{ou} \quad \frac{\partial}{\partial y} f(x, y) \quad \text{ou} \quad \partial_y f(x, y)$$

En d'autres termes

$$\frac{\partial f(x, y)}{\partial y} = \lim_{\Delta y \rightarrow 0} \frac{f(x, y + \Delta y) - f(x, y)}{\Delta y}$$

Dans le cas où la limite n'existe pas, on dit que *la fonction f n'est pas partiellement dérivable par rapport à y en (x, y)* .

La définition s'étend naturellement aux fonctions de trois variables ou plus. Ainsi, *la dérivée partielle de la fonction f par rapport à z en (x, y, z)* est la dérivée de la fonction d'une seule variable réelle

$$z \mapsto f(x, y, z) \quad \text{où} \quad x \text{ et } y \text{ sont constants}$$

Elle est notée

$$\frac{\partial f(x, y, z)}{\partial z} \quad \text{ou} \quad \frac{\partial f}{\partial z}(x, y, z) \quad \text{ou} \quad \frac{\partial}{\partial z} f(x, y, z) \quad \text{ou} \quad \partial_z f(x, y, z)$$

En d'autres termes

$$\frac{\partial f(x, y, z)}{\partial z} = \lim_{\Delta z \rightarrow 0} \frac{f(x, y, z + \Delta z) - f(x, y, z)}{\Delta z}$$

Exemples (calculs à la main)

Soit $f(x, y) = \frac{x^2}{y}$. Alors,

$$\frac{\partial}{\partial x} \left(\frac{x^2}{y} \right) = \frac{1}{y} \frac{\partial}{\partial x} (x^2) = \frac{1}{y} (2x) = \frac{2x}{y}$$

$$\frac{\partial}{\partial y} \left(\frac{x^2}{y} \right) = x^2 \frac{\partial}{\partial y} \left(\frac{1}{y} \right) = x^2 \frac{\partial}{\partial y} (y^{-1}) = x^2 (-1) y^{-2} = -\frac{x^2}{y^2}$$

Soit $V(r, h) = \pi r^2 h$. Alors,

$$\frac{\partial V(r, h)}{\partial r} = \frac{\partial}{\partial r} (\pi r^2 h) = \pi h \frac{\partial}{\partial r} (r^2) = \pi h (2r) = 2\pi r h$$

$$\frac{\partial V(r, h)}{\partial h} = \frac{\partial}{\partial h} (\pi r^2 h) = \pi r^2 \frac{\partial}{\partial h} (h) = \pi r^2 \cdot 1 = \pi r^2$$

$$\frac{\partial V(0.4; 0.6)}{\partial r} = \frac{\partial}{\partial r} (\pi r^2 h) \Big|_{(0.4, 0.6)} = 2\pi r h \Big|_{(0.4, 0.6)} = 2\pi \cdot 0.4 \times 0.6 = 0.48\pi$$

$$\frac{\partial V(0.4; 0.6)}{\partial h} = \frac{\partial}{\partial h} (\pi r^2 h) \Big|_{(0.4, 0.6)} = \pi r^2 \Big|_{(0.4, 0.6)} = \pi \cdot 0.4^2 = 0.16\pi$$

Dérivée et ordre des opérations

Par exemple, pour calculer la dérivée de la fonction $f(x) = x^2$ en $x = 3$, il faut

d'abord calculer la fonction dérivée $f'(x) = 2x$

puis ensuite remplacer par la valeur $f'(3) = 2 \cdot 3 = 6$

Si on inverse l'ordre des opérations, le résultat est toujours nul:

remplacer d'abord par la valeur $f(3) = 3^2 = 9$ [ce qui donne une constante]

puis calculer ensuite la dérivée $(9)' = 0$ [la dérivée d'une fonction constante est nulle].

C'est pourquoi, en *Mathematica*, le calcul qui suit donne un résultat aberrant

```
Clear[f];
fface
f[x_] := x^2;
D[f[3]]
0
```

Une méthode correcte est la suivante (la substitution est effectuée à la fin)

```
D[f[x] /. x -> 3]
6
```

Exemples (calculs avec Mathematica)

$$D_x \left(\frac{x^2}{y} \right)$$

$$\frac{2x}{y}$$

$$\partial_y \left(\frac{x^2}{y} \right)$$

$$-\frac{x^2}{y^2}$$

$$\partial_r (\pi r^2 h)$$

$$2 h \pi r$$

$$\partial_h (\pi r^2 h)$$

$$\pi r^2$$

$$\partial_r (\pi r^2 h) /. \{r \rightarrow 0.4, h \rightarrow 0.6\}$$

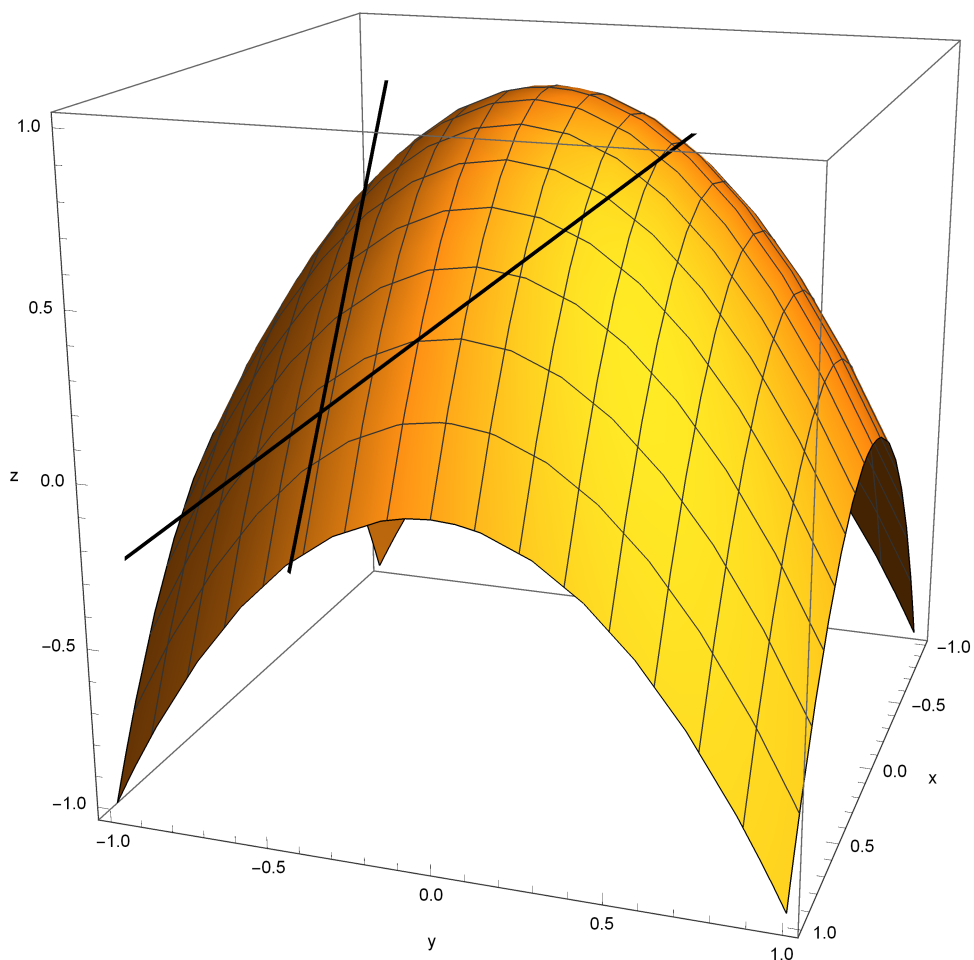
$$1.50796$$

$$\partial_h (\pi r^2 h) /. \{r \rightarrow 0.4, h \rightarrow 0.6\}$$

$$0.502655$$

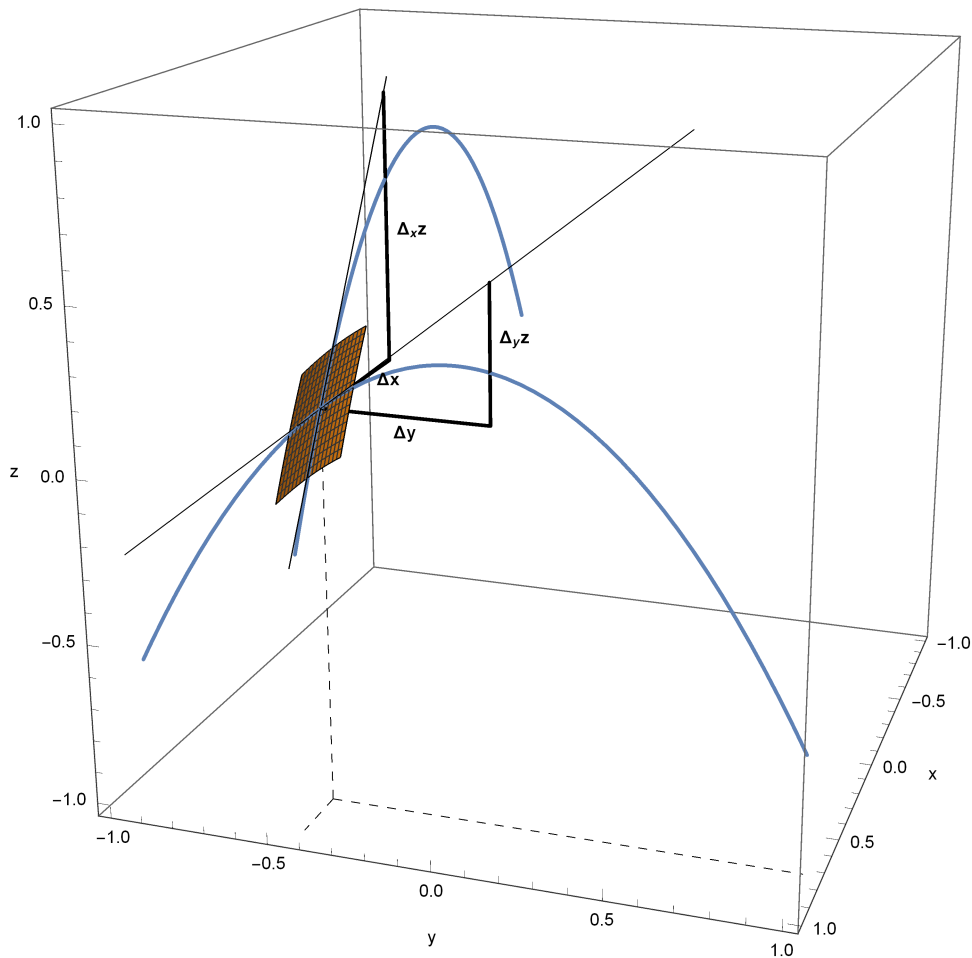
Interprétation géométrique

Illustrons la notion de dérivée partielle sur la fonction $f(x, y) = 1 - x^2 - y^2$. Au point $(x, y) = (0.8, -0.4)$, traçons les deux droites tangentes à la surface, la première dans le plan vertical parallèle au plan (x, z) , la deuxième dans le plan vertical parallèle au plan (y, z) .



La dérivée partielle $\frac{\partial}{\partial x} f(x, y)$ représente la *pente de la droite* qui est tangente à la surface au point $(x, y, f(x, y))$ dans le plan vertical (x, z) . Dans la figure suivante, il s'agit du nombre $\frac{\Delta z}{\Delta x}$.

La dérivée partielle $\frac{\partial}{\partial y} f(x, y)$ représente la *pente de la droite* qui est tangente à la surface au point $(x, y, f(x, y))$ dans le plan vertical (y, z) . Dans la figure suivante, il s'agit du nombre $\frac{\Delta z}{\Delta y}$.



Exercices du § 2

Exercice 2-1 Calculs à la plume

Pour $E = \frac{1}{2} m v^2$, en $(m, v) = (2 \text{ kg}, 5 \frac{m}{s})$, calculez à la main les *dérivées partielles* $\frac{\partial E}{\partial m}$ et $\frac{\partial E}{\partial v}$.

Exercice 2-2 Interprétations géométriques

- Avec *Mathematica*, dessinez la fonction $I = \frac{U}{R}$ sur le domaine $[5 \text{ V}, 15 \text{ V}] \times [500 \Omega, 1500 \Omega]$ puis imprimez le graphique.
- Calculez à la main $\frac{\partial I(U, R)}{\partial U}$ et $\frac{\partial I(U, R)}{\partial R}$ en $(U, R) = (10 \text{ V}, 1000 \Omega)$.
- Expliquez et dessinez sur le graphique de I ce que représentent $\frac{\partial I(10 \text{ V}, 1000 \Omega)}{\partial U}$ et $\frac{\partial I(10 \text{ V}, 1000 \Omega)}{\partial R}$.

Exercice 2-3 Calculs avec Mathematica

Pour $v = \frac{\sqrt{x^2 + y^2}}{t}$, en $(x, y, t) = (3 \text{ m}, 2 \text{ m}, 5 \text{ s})$, calculez avec *Mathematica* les *dérivées partielles* $\frac{\partial v}{\partial x}$ et $\frac{\partial v}{\partial t}$.

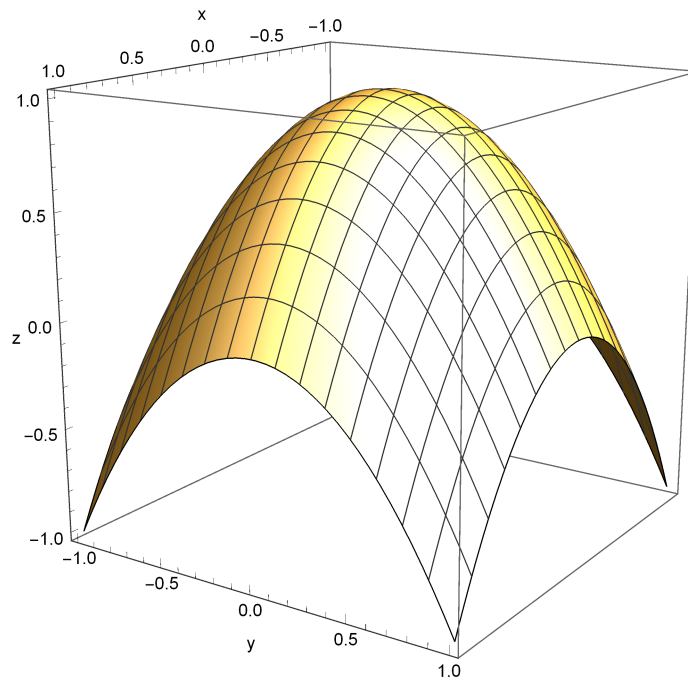
Exercice 2-4 Calculs à la plume

Pour $v = \sqrt{2gh}$, en $(g, h) = (9.81 \frac{m}{s^2}, 2 m)$, calculez à la main les *dérivées partielles* $\frac{\partial v}{\partial g}$ et $\frac{\partial v}{\partial h}$.

Exercice 2-5 Graphique à la main

On donne le graphique de la fonction

$$z = f(x, y) = 1 - x^2 - y^2$$



- Construisez les axes de coordonnées Ox, Oy, Oz qui passent par l'origine O du repère.
- Construisez le point $P(0.6; 0.5; f(0.6; 0.5))$
- Donnez une interprétation géométrique de la dérivée partielle de f par rapport à x en $(0.6; 0.5)$. Estimez graphiquement sa valeur.
- Donnez une interprétation géométrique de la dérivée partielle de f par rapport à y en $(0.6; 0.5)$. Estimez graphiquement sa valeur.

Liens

Vers les corrigés des exercices du § 2:

<https://www.deleze.name/marcel/sec2/applmaths/csud/corriges/plusieurs-variables/2-derivees-partielles-cor.pdf>

Vers la page mère : Applications des mathématiques

<https://www.deleze.name/marcel/sec2/applmaths/csud/index.html>